



**19º ROTEIRO DE ATIVIDADES COMPLEMENTARES DE ESTUDO – COVID 19**

**ALUNO (A):** \_\_\_\_\_

**ESCOLA MUNICIPAL PARIGOT DE SOUZA**

**PROFESSOR: CELIA VERRI E SUELI DUTRA**

**TURMA: SRM – GRUPO 1**

**COMPONENTES CURRICULARES: LÍNGUA PORTUGUESA E MATEMÁTICA**

**PERÍODO DE REALIZAÇÃO: 14/09/2020 A 18/09/2020**

***OLÁ QUERIDOS ALUNOS! MAIS UMA SEMANA DE ATIVIDADES SE INICIA. SE  
PRECISAREM DE AJUDA ESTOU A DISPOSIÇÃO PELO WHATSAPP.***


<p><b>O QUE VOCÊ VAI ESTUDAR:</b></p>	<ul style="list-style-type: none"> <li>• <b>LÍNGUA PORTUGUESA:</b> TEXTO INFORMATIVO SOBRE AS ABELHAS. ATIVIDADES COM: COMPREENSÃO E INTERPRETAÇÃO; LEITURA INFORMATIVA; CONSTRUÇÃO DO SISTEMA DE ESCRITA ALFABÉTICA.</li> <li>• <b>MATEMÁTICA:</b> FUNÇÃO SOCIAL DO USO DOS NÚMEROS (QUANTIFICAÇÃO, ORDENAÇÃO E CLASSIFICAÇÃO. ORGANIZAR DADOS DE ACORDO COM O QUE ESTÁ ESTABELECIDO. TABELA DE DUPLA ENTRADA.</li> </ul>
<p><b>PARA QUE VAMOS ESTUDAR ESSES CONTEÚDOS?</b></p>	<ul style="list-style-type: none"> <li>• INTERPRETAR OS FATOS PRINCIPAIS DO TEXTO.</li> <li>• FIXAR OS SONS E CONSTRUÇÃO DA ESCRITA.</li> <li>• RECONHECER E IDENTIFICAR A SEQUÊNCIA SOBRE A PRODUÇÃO DO MEL.</li> <li>• RECONHECER AS VÁRIAS FORMAS EM QUE UTILIZAMOS CRITÉRIOS PARA ORGANIZAÇÃO DE OBJETOS, BRINQUEDOS, PESSOAS ETC.</li> </ul>
<p><b>COMO VAMOS REGISTRAR O QUE APRENDEMOS?</b></p>	<ul style="list-style-type: none"> <li>• QUEM ESTÁ FAZENDO EM FOLHA IMPRESSA NÃO PRECISA FAZER NO CADERNO TAMBÉM. SOMENTE NA FOLHA</li> </ul>

➤ **TERÇA-FEIRA - 15/09/2020**

**LÍNGUA PORTUGUESA**

**LEITURA E INTERPRETAÇÃO DO TEXTO: AS ABELHAS**

1) LEIA O TEXTO INFORMATIVO COM A AJUDA DA MAMÃE:



**SECRETARIA MUNICIPAL DE EDUCAÇÃO  
ATIVIDADES COMPLEMENTARES DE ESTUDO – COVID 19**

**AS ABELHAS**

A ABELHA É UM INSETO MUITO TRABALHADOR. FABRICA O MEL, A CERA E O PRÓPOLIS, QUE USAMOS COMO ALIMENTO E NA PRODUÇÃO DE REMÉDIOS. ENQUANTO VOA DE FLOR EM FLOR PARA SE ALIMENTAR, LEVA EM SUAS PATINHAS O PÓLEN QUE FAZEM COM QUE AS PLANTAS SE REPRODUZAM. ELA VIVE EM COLMÉIAS QUE ELA E SUAS AMIGAS CONSTOEM. TAMBÉM EXISTEM PESSOAS QUE CRIAM ABELHAS PARA A PRODUÇÃO DO MEL COMO PROFISSÃO, SÃO OS **APICULTORES**.

2) MARQUE UM (X) NA RESPOSTA CORRETA:

a) A ABELHA É UM INSETO:

( ) MUITO PREGUIÇOSO ( ) MUITO BRAVO ( ) MUITO TRABALHADOR

b) ELA FABRICA O:

( ) PÃO DE MEL E O PRÓPOLIS


( ) MEL, A CERA E O REMÉDIO

( ) MEL, A CERA E O PRÓPOLIS

c) O NOME DA PROFISSÃO DE QUEM CRIA ABELHA É:

( ) AGRICULTOR ( ) APICULTOR ( ) APRESENTADOR

3) FAÇA UM DESENHO PARA REPRESENTAR O QUE AS ABELHAS FAZEM QUE GARANTEM A REPRODUÇÃO DAS PLANTAS:



SECRETARIA MUNICIPAL DE EDUCAÇÃO  
ATIVIDADES COMPLEMENTARES DE ESTUDO – COVID 19

**MATEMÁTICA**

PARA INDICAR ORDEM, POSIÇÃO OU LUGAR, UTILIZAMOS OS NÚMEROS ORDINAIS.

OS NÚMEROS ORDINAIS ATÉ O 10º SÃO:



INDIQUE COM O NUMERAL ORDINAL A POSIÇÃO QUE CADA DESENHO SE ENCONTRA NA SEQUÊNCIA.



AGORA COMPLETE.

- A) A ESTRELA É O **2º** ELEMENTO DA SEQUÊNCIA.  
B) O PINGUIM É \_\_\_\_\_ ELEMENTO DA SEQUÊNCIA.  
C) A \_\_\_\_\_ É O 4º ELEMENTO DA SEQUÊNCIA.  
D) O 5º ELEMENTO DA SEQUÊNCIA É A \_\_\_\_\_.  
E) A OVELHA É O \_\_\_\_\_ ELEMENTO DA SEQUÊNCIA.

➤ **QUARTA-FEIRA - 16/09/2020**

**LÍNGUA PORTUGUESA**


ESTA SEMANA ESTUDAREMOS SOBRE UM ANIMAL MUITO IMPORTANTE NA NATUREZA. VOU COLOCAR ALGUMAS DICAS PARA VER SE VOCÊ DESCOBRE. QUANDO DESCOBRIR COLOQUE O NOME DELE DENTRO DA FLOR.

- 1) PODE TER SUA CASA NA ÁRVORE;
- 2) GOSTA MUITO DE TRABALHAR;
- 3) EXISTEM DE VÁRIOS TAMANHO E CORES;
- 4) POSSUI SEIS PERNAS;
- 5) SE NÃO CUIDARMOS DELE PODE DESAPARECER;
- 6) TEM ANTENAS, ASAS E MAIS DE DOIS OLHOS;
- 7) PRODUZ UMA SUBSTÂNCIA QUE NÃO ESTRAGA NUNCA;



**SECRETARIA MUNICIPAL DE EDUCAÇÃO  
ATIVIDADES COMPLEMENTARES DE ESTUDO – COVID 19**

- 8) USAMOS O QUE ELE PRODUZ PARA A FABRICAÇÃO DE ALIMENTOS E REMÉDIOS;  
9) SE MECHERMOS COM ELE, SAÍMOS PICADOS;  
10) PRODUZ MEL, CERA E PRÓPOLIS?



RESPONDA:

- A) VOCÊ DESCOBRIU FÁCIL: ( ) SIM ( ) NÃO  
B) GOSTOU DESTA ATIVIDADE: ( ) SIM ( ) NÃO  
C) COLOQUE O NÚMERO DA DICA EM QUE VOCÊ DESCOBRIU QUAL ERA O ANIMAL

➤ **QUINTA-FEIRA - 17/09/2020**


**MATEMÁTICA**

1- COMPLETE A SEQUÊNCIA NUMÉRICA:

11				15				19	
----	--	--	--	----	--	--	--	----	--

2- DESCURA O NÚMERO ATRAVÉS DAS DICAS:

- A) TAMBÉM SOU CHAMADO DE DUAS DEZENAS.
- B) SOU FORMADO POR UMA DEZENAS E TRÊS UNIDADES.
- C) MORO ENTRE O 13 E O 15.
- D) VENHO DEPOIS DO 16.
- E) MORO ANTES DO 20.



**SECRETARIA MUNICIPAL DE EDUCAÇÃO  
ATIVIDADES COMPLEMENTARES DE ESTUDO – COVID 19**

3) PINTE O MENOR NÚMERO: 10 - 12 - 05 - 15 - 08

4) PINTE O MAIOR NÚMERO: 10 - 12 - 05 - 15 - 08

➤ **SEXTA-FEIRA - 18/09/2020**

**LÍNGUA PORTUGUESA**

1- COMPLETE A FRASE COM AS PALAVRAS DO QUADRO, DANDO SENTIDO CORRETO À FRASE:

MEL – COLMÉIA – ABELHAS - FLORES

A) AS .....RETIRAM O NÉCTAR DAS  
....., LEVAM PARA A .....  
E LÁ PRODUZEM O .....



2- LIGUE OS PONTOS:

